

Data


Verifica di mate

1. Cerchia l'operazione giusta

In un frutteto ci sono 5 file con 6 ciliegi ciascuno.

Quanti ciliegi ci sono nel frutteto?

- a) $5 \times 6 = 30$
- b) $5 + 6 = 11$



In una classe i maschi sono 14 e le femmine sono la metà del numero dei maschi.

Quante femmine ci sono in classe?

- a) $14 \times 2 = 28$
- b) $14 : 2 = 7$



Maria ha letto 123 pagine di un libro che ha 200 pagine.

Quante pagine le restano da leggere per finire il libro?

- a) $200 + 123 = 323$
- b) $200 - 123 = 77$

La seconda C è composta da 22 alunni mentre nella seconda A ci sono 20. Quanti alunni ci sono nelle due seconde?

- a) $22 + 20 = 42$
- b) $22 - 20 = 2$

2. Sottolinea la domanda giusta

1. In un orto ci sono 5 file di insalata con 6 piantine in ogni fila.

- a) Quante piantine di insalata ci sono in tutto?
- b) Quanti conigli mangiano l'insalata?



2. In seconda C ci sono 22 alunni. Oggi ne mancano 3.

- a) Quanti alunni saranno promossi?
- b) Quanti alunni sono presenti?

3. In un pollaio ci sono 2 galli, 3 galline e 7 pulcini?

- a) Quanti uccelli in tutto ci sono nel pollaio?
- b) Quanti uccelli mancano?




4. La mamma distribuisce i 50 pasticcini ai 10 bambini invitati alla festa di Mario.

- a) Quanti pasticcini riceve ciascun bambino?
- b) Quanti pasticcini ha cucinato la mamma?

3. Cerchia i dati inutili.

Mario compra in cartoleria 5 quaderni a quadretti che costano 2 euro ciascuno e una scatola di colori che costa 12 euro.

Quanto spende per i quaderni?



In un cinema ci sono 300 posti liberi e 50 posti occupati. Il biglietto costa 5 euro.

Quanti posti ci sono in tutto?


Da Castiglione a Milano ci sono 150 km. Il papà ha percorso 49 Km in 10 minuti. Quanti km gli restano da fare?



4. Leggi, risolvi e rispondi

Un coniglio mangia 5 carote al giorno.
Quante carote mangia in 12 giorni?

In una scatola ci sono 24 macchinine rosse che la nonna vuole distribuire in modo uguale ai 4 nipotini.
Quante macchinine spetta a ciascun nipotino?



Alla partita di pallavolo erano presenti 257 persone. Dopo un quarto d'ora 120 vanno via. Quante persone rimangono?

Mario ha letto durante le vacanze 12 libri mentre sua sorella ne ha letti 5 in più. Quanti libri ha letto la sorella di Mario?